



Vi lærer mer om fisk

Bruk bøker eller nett
og finn svarene!



SPØRSMÅL

Hvilken fiskeart er Norges minste?

Hvilken fiskeart er verdens største?

Hvilken fiskeart er Norges største?

Er hai en fisk eller et pattedyr?

Hvilken fisk er giftig å stikke seg på?

Hvilken fisk er Norges lengste fisk?

Hvilken fisk spiser vi mest av i Norge?

Hvilke land kjøper mest fisk fra Norge?

Sover fisk?





Vi lærer mer om fisk – fasit



SPØRSMÅL

SVAR

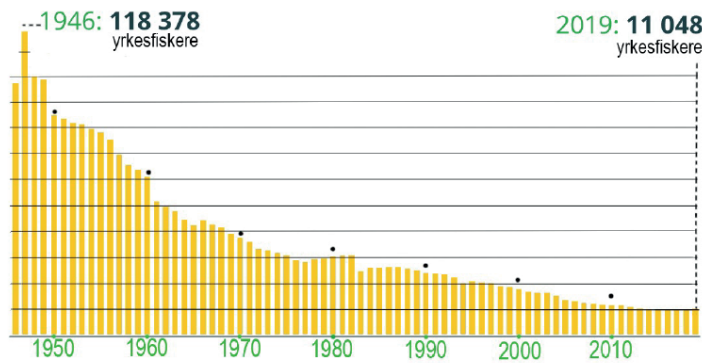

Hvilken fiskeart er Norges minste?	Småkutling (<i>Lebetus guilleti</i>).
Hvilken fiskeart er verdens største?	Hvalhai (<i>Rhincodon typus</i>) er verdens største fisk.
Hvilken fiskeart er Norges største?	Brugden er den største haien som lever i Norge.
Er hai en fisk eller et pattedyr?	Hai er en fisk.
Hvilken fisk er giftig å stikke seg på?	Fjesing er den giftigste fisken. Pigghå og havmus er også giftige, men har en mildere gift.
Hvilken fisk er Norges lengste fisk?	Sildekongen regnes for å være Norges lengste fisk. Sildekongen er 11 meter lang og 270 kilo tung.
Hvilken fisk spiser vi mest av i Norge?	Vi spiser mest laks.
Hvilke land kjøper mest fisk fra Norge?	Polen kjøper mest fisk. Danmark ligger på andreplass.
Sover fisk?	Ja, noen fisker ligger på bunnen og sover. Andre fisker lar seg bare drive med bølgene når de sover.



Fisketall

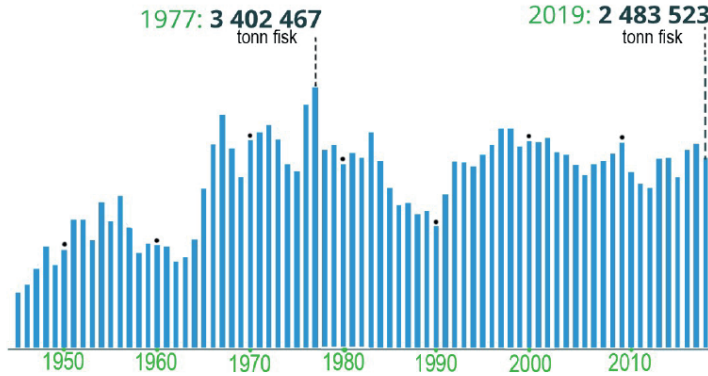


YRKESFISKERE



Kilde: SSB

FISK



Fiskeslagene med størst fangst

Kilde: SSB

Torsk
2019

436 722 tonn

Sei
2019


203 665 tonn

Sild
2019

603 027 tonn

Kolmule
2019

353 703 tonn



Oppgaver til arket om «Fisketall»

1) Se på de to søylediagrammene.

Hva viser de gule søylene?

Hva viser de blå søylene?

2) Se på det gule søylediagrammet.

Hvor mange yrkesfiskere var det i 1946?

Hvor mange yrkesfiskere var det i 2019?

Hvor stor er nedgangen i antallet yrkesfiskere fra 1946 til 2019?

Hvor mange yrkesfiskere sluttet i jobben sin mellom 1946 og 1947?

3) Se på det blå søylediagrammet.

Hvor mange tonn fisk ble fisket i 1977?

Hvor mange tonn fisk ble fisket i 2019?

Hva er differansen mellom 1977 og 2019?

Hva tror du er grunnen til at antall tonn fisk som fiskes er endret på disse årene?

4) Hvor mange fiskefartøy var registrert i Norge i 2019?

5) Hvor mange yrkesfiskere var det i Norge i 2019?

6) Hvor mange personer er det i gjennomsnitt på hver båt?

7) Se på faktaboksen om arter som fiskes i Norge.

Hvilken art blir det fisket mest av i Norge?

Hvilken art blir det fisket nest mest av?

Bruk Google og finn bilder av de fire fiskeartene.

Hvilke andre arter fisk blir det fisket i Norge? Søk i bøker eller på nett.





VI LAGER HYPOTESER

Hva tror du er grunnen til at antallet yrkesfiskere har gått ned?



Tegn og skriv.
Jeg tror grunnen er:



Dikt

Hvis torsken oss feile hva hadde vi da?

Hva skulle vi føre til Bergen herfra?

*Jo fisken i havet er vores brød og
mister vi hanem da lide vi nød.*

Skrevet av Petter Dass, Nordlands trompet

Oppgave

Finn et tema fra havet som du kan skrive dikt om. Du skal skrive et dikt med parrim. Et parrim er når to og to verselinjer rimer på hverandre. Se hvordan Petter Dass lar det siste ordet i første setning rime med siste ord i setningen etter.

Nå er det din tur. Lykke til!