

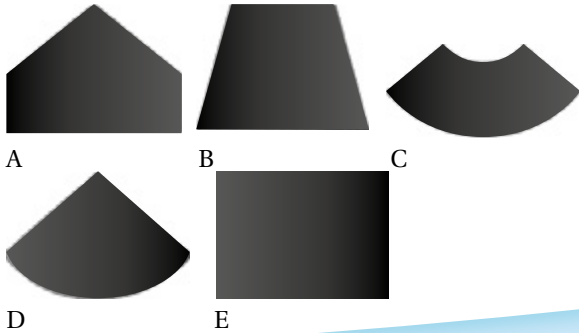
Mattegrublerier

FRA KENGURUKONKURRANSEN


1. Ole skal lage en spiss hatt med kant. Han klipper først ut kanten.



Hvilken bit må han bruke til hatten?




4. Farmor har høner og en katt. Dyrene har 20 bein til sammen.



Hvor mange høner har farmor?

- a) 11 b) 9 c) 8 d) 6 e) 4

5. En sjørøver har to kister. I den venstre ligger det 10 gullmynter. Den andre er tom.



I morgen skal sjørøveren legge 1 gullmynt i den venstre kista og 2 gullmynter i den andre. Slik fortsetter han hver dag til det er like mange mynter i begge kistene.

Hvor mange dager vil det ta?

- a) 5 b) 8 c) 10 d) 12 e) Det kommer aldri til å skje

$$2 + 3 = 57$$

2. Emily legger sammen to tosifrede tall i boka si. Hun regner riktig. Så maler hun over to av sifrene.

Hva er summen av de to sifrene hun har malt over?

- a) 5 b) 7 c) 8 d) 9 e) 13

3. Marihønene skal ha 20 prikker til sammen.

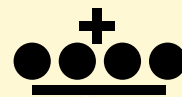
Hvilken må fly av sted?




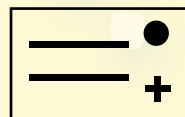
- a) b) c) d) e)

6. Klara skal lage 3 kongekroner av klistremerker.

Kronene skal se slik ut:



Hun har to forskjellige ark med klistremerker:



Hvor mange ark trenger hun totalt?

- a) 3 b) 4 c) 5 d) 6 e) 7